



■ دن میں آسمان پر کیا دکھائی دیتا ہے؟

■ سورج کی تصویر بنا کر رنگ بھرائے۔

میں کر سکتا ہوں


■ رات کو آسمان پر کیا دکھائی دیتا ہے؟ پہچان کر رنگ بھرئے۔



آئیے نقشہ بنائیں



رات میں آسمان



درکار اشیاء کالے رنگ کا کارڈ، روئی، چمکیاں، گوند، تھوڑا پانی

طریقہ :


- ★ ایک کالے چارٹ بورڈ کو لے کر مربع کی شکل میں کاٹیں۔
- ★ اس کے درمیان میں چاند کی تصویر بنائیں۔
- ★ اس تصویر پر گوند لگا کر اس پر روئی چپکائیں۔
- ★ اس کے اطراف چمکیاں لگا کر تارے بنائیں۔

بچوں کو رات اور دن سے متعلق تصویریں دکھائیے۔

آئیے پہچانیں



پہلی یہاں! جواب کہاں؟



1- جتنا بھی قریب جاؤ
ہاتھ نہیں آتا
وہ کیا ہے؟



2- جتنا بھی گن کر دیکھیں
گن نہیں پاؤ گے
وہ کیا ہیں؟

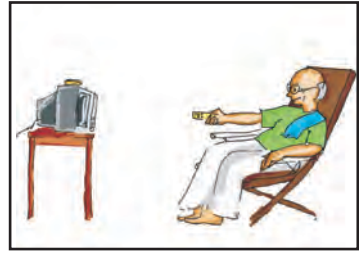


3- چاندی کی تھالی
خود سے آئے گی، خود ہی گم ہو جائے گی
وہ کیا ہے؟

نئی نئی اور آسان پہیلیاں جماعت میں استعمال کیجئے۔

ماحولیات

گھر میں صبح کا منظر



❖ تصویر میں یہ سب کیا کیا کام کر رہے ہیں؟

❖ آپ کے گھر میں صبح سویرے کون کون کیا کیا کام کرتے ہیں؟

❖ آپ صبح میں روزانہ کیا کیا کام کرتے ہو؟

بچوں کو اوپر کی تصویروں کو غور سے دیکھنے کو کہئے اور صبح کی مصروفیات کے بارے میں بحث کیجئے۔

آئیے پہچانیں



رات میں جاگنے والے جانوروں پر نشان ✓ لگائیے۔



سائنس

آئیے غور سے دیکھیں اور
مل جل کر بحث کریں



کیا آپ نے رات میں آسمان دیکھا ہے؟

- رات کے وقت آسمان کا رنگ کیسا ہوتا ہے۔
- کیا رات کے وقت درخت اور پھولوں کے رنگ نظر آتے ہیں؟
- کیا چاند روزانہ آسمان پر نظر آتا ہے؟
- آسمان پر کیا چمک رہے ہیں؟
- کیا ہم تاروں کو گن سکتے ہیں؟
- کیا چاند روزانہ ایک ہی جیسا دکھائی دیتا ہے؟



آئیے غور سے دیکھیں اور
مل جل کر بحث کریں



کیا آپ نے دن میں آسمان دیکھا ہے ؟

- ☀ کیا دن میں آسمان پر تارے نظر آتے ہیں؟
- ☀ دن میں آسمان پر دکھائی دینے والے رنگ بتائیے۔
- ☀ سورج طلوع ہوتے وقت مشرق کی طرف آسمان کیسے نظر آتا ہے؟
- ☀ سورج غروب ہوتے وقت مغرب کی طرف آسمان کا رنگ کیسا ہوتا ہے؟
- ☀ کیا دن میں آسمان پر چاند نظر آتا ہے ؟
- ☀ آپ کو دن پسند ہے یا رات ؟

آئیے بات کریں



رات کی مصروفیات



پوتی : داداجان ! رات میں کیوں اندھیرا ہوتا ہے ؟

داداجان : سورج غروب ہونے سے اندھیرا ہے۔

پوتی : تھوڑا اجالا دکھائی دے رہا ہے !

داداجان : وہ چاند کی روشنی ہے۔



پوتی : آسمان پر کیا چمک رہے ہیں ؟

داداجان : وہی تارے ہیں۔



تصویر کو غور سے دیکھ کر صبح شام اور رات کی مصروفیات کے متعلق بچوں کو بولنے میں مدد کریں

دن اور رات



میں کر سکتا ہوں۔

❁ ایک گاڑی جو تینوں خانوں میں موجود ہے، وہ گاڑی کونسی ہے؟ پہچان کر دائرہ بنائیے

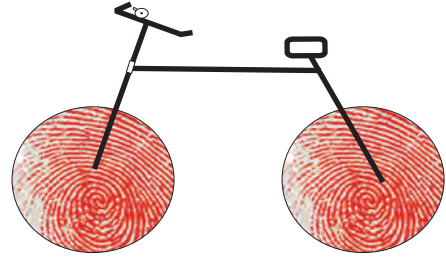



❁ چار سے زیادہ پہیوں والی گاڑیوں کے نام لکھئے۔

❁ کون کہاں پر چلتی ہیں؟ (سڑک، ہوائی راستہ، سمندر) خالی جگہ میں لکھئے۔



اپنے انگوٹھے کے نشانات کی مدد سے بنائیے۔



منصوبہ (پراجکٹ) : آئیے ایک البم بنائیں۔

اپنی پسند کی سواریوں کی تصویریں جمع کیجئے اور اس کا ایک البم بنائیے۔

آئیے پہچانیں !



کونسی سواریاں کہاں چلتی ہیں؟

سڑک پر چلنے والی گاڑیوں پر ○ نشان لگائیے۔

ہوا میں اڑنے والی گاڑیوں پر □ نشان لگائیے۔

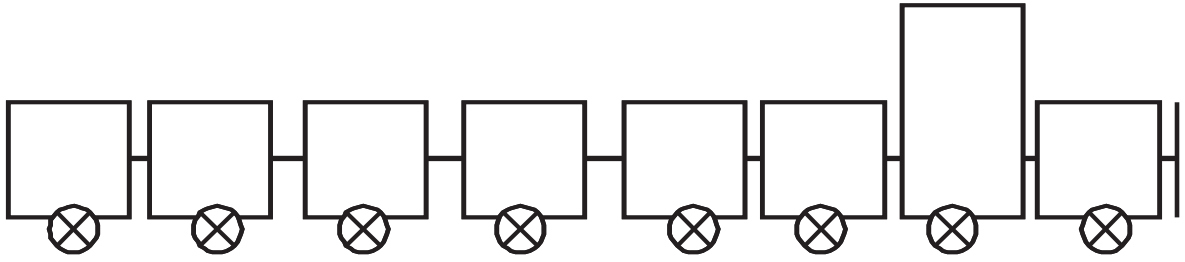
پانی پر چلنے والی گاڑیوں پر △ نشان لگائیے۔



آئیے بنائیں



کھلونا ریل گاڑی



خالی دیاسلائی کے ڈبے ، چکنی مٹی
یا پلاسٹک کی بوتل کے کاک ،
دھاگا ، ناریل کی سلائوں کو لے کر
ریل گاڑی بنائیں۔

آئیے تصویر بنائیں



آپ کی کسی ایک پسندیدہ گاڑی کی تصویر بنا کر اُس میں رنگ بھریئے۔

ماحولیات

آئیے جانیں!



کیا آپ ان سوار یوں میں موجود پہیوں کی گنتی کر سکتے ہو؟



آئیے گن کر لکھیں

_____ دو پہیوں والی گاڑیاں

_____ تین پہیوں والی گاڑیاں

_____ چار پہیوں والی گاڑیاں

_____ چار سے زیادہ پہیوں والی گاڑیاں




گاڑیوں کے نام اور ان کے پہیوں کی گنتی کی شناخت کرنے میں بچوں کی مدد کیجئے۔

آئیے غور سے دیکھیں
اور بات کریں



کہاں جائیں! کیسے جائیں؟



✿ تصویر میں آپ کونسی سواریوں کو دیکھ رہے ہو؟

✿ اپنے گھر میں کونسی سواریاں موجود ہیں؟

✿ کیا آپ نے بس میں سفر کیا؟ سفر کیسا رہا، اس بارے میں کچھ بتائیے۔

ماحولیات

میں کر سکتا ہوں

✿ برسات کے دوران باہر جاتے وقت تم کیا لے کر جاتے ہو ؟
پہچان کر رنگ بھریں۔



✿ کاغذ کی ناؤ بنائیے۔

✿ برسات کے دوران کیا کیا آوازیں سنائی دیتی ہیں ؟


✿ پانی کے استعمالات بتائیے۔

✿ ہوا سے متعلق ایک گیت سنائیے۔

آئیے رنگ بھریں!



قوس قزح میں موجود سات رنگوں کو غباروں میں بھرنے کے لئے
استاد بچوں کی مدد کرے۔




ماحولیات


آئیے کر کے دیکھیں



اُچھلنے والا مٹر




چکری کے ایک کنارے کو کاغذ کے ایک ٹکڑے سے بند کر دیں جیسے یہاں بتایا گیا ہے۔



دھاگے کی خالی چکری میں ایک سوراخ بنائیں۔



چکری کے کھلے سرے سے آہستہ سے پھونکیں اور دیکھیں کہ کیا ہوتا ہے۔




سوراخ کے اوپر ایک مٹر رکھیں۔

اُسیداس کا لطف اٹھا رہا ہے۔ تم کیوں نہیں؟

آئے گیت گائیں!

ہوا چل رہی ہے! ہوا چل رہی ہے!



ہوا چل رہی ہے! ہوا چل رہی ہے!
مجھ پر ٹھنڈی ہوا چل رہی ہے
ہوا چلنے سے پیڑ جھولتے ہیں
ہوا چلنے سے پھر کی گھومتی ہے
ہوا چلنے سے مٹنا بھی خوش ہوتا ہے
ہوا چل رہی ہے! ہوا چل رہی ہے!

منصوبہ (پراجکٹ): بچوں سے کہیں کہ وہ اپنے والدین کی مدد سے کاغذ کی ایک پھر کی بنائیں۔

احولیات

آئیے کاغذ کی ناؤ بنائیں!



کاغذ کی ناؤ بنانا!



1



2



3



4



5



6



7



8



9




10



11



12



13

آئیے مل جل کر بحث کریں



- ❖ کیا آپ کو برسات پسند ہے ؟
- ❖ کیا آپ نے برسات کے پانی میں ناؤ چلائی ہے ؟
- ❖ کیا آپ کو کاغذ کی ناؤ بنانا آتا ہے ؟
- ❖ برسات کے وقت جب باہر جاتے ہیں تو کیا لے کر جاتے ہیں ؟
- ❖ برسات کے وقت آپ کی گلی کیسی ہوتی ہے ؟
- ❖ کیا آپ کی گلی میں کچھڑ ہوتا ہے ؟
- ❖ برسات میں آپ کے گھر کے اطراف پودے کیسے دکھائی دیتے ہیں ؟
- ❖ کیا آپ کو برسات کے وقت مٹی کی خوشبو محسوس ہوتی ہے ؟
- ❖ برسات کے دوران کیا کیا آوازیں سنائی دیتی ہیں ؟
- ❖ برسات کے دنوں میں آپ کو کیا کھانے کی خواہش ہوتی ہے ؟
- ❖ کیا برسات کے دوران آپ کے گھر میں بجلی بند ہو جاتی ہے ؟
- ❖ اگر برسات نہ برسے تو کیا پیڑ، پودے اُگ پائیں گے ؟
- ❖ پانی کے استعمالات بتائیے۔

برسات کا ترانہ بچوں کے ساتھ مل کر گائیے۔ اوپر دئے گئے برسات سے متعلق سوالات کو بچوں کے ساتھ مل جل کر بحث کیجئے۔

آئیے کھیلیں !

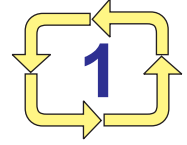


برسات کی آواز !

جب استاد ”ایک“ کہے تو بچے اپنے دائیں ہاتھ کی اشارے کی انگلی سے بائیں ہتھیلی پر بجائیں۔
جب استاد ”دو“ کہے تو بچے دو انگلیوں سے بجائیں اور اسی طرح چار تک بجائیں۔
اب تمہیں برسات کی آواز سنائی دے گی۔



آئیے گیت گائیں



ہوا چل رہی ہے۔ برسات ہو رہی ہے۔
آؤ ناؤ چلائیں



برسات آرہی ہے ! برسات آرہی ہے !

اناج سمیٹو

سڑک پر بہتا ہوا پانی دیکھو

کاغذ کی ناؤ بناؤ

اور چلا کر دیکھو

چھتری اٹھا کر کودو

ناچو اور گاؤ

برائے استاد !

بچے ہمیشہ اپنے اطراف پائے جانے والے پیڑ، پودے، بیل بوٹے اور جانوروں کو دیکھ کر خوش ہوتے ہیں۔ لہذا ان میں حیرت و مسرت کے جذبہ کو ابھارنے کے لئے یہ نصابی کتاب ترتیب دی گئی ہے۔ بچوں کو اپنے اور اپنے اطراف بسنے والوں کے بارے میں تجربات اور احساسات سے دوچار کرنے سے متعلق اس کتاب میں عملی مشقیں دی گئی ہیں۔

بچے اسکول آنے سے قبل ہی کہانیوں اور گیتوں سے واقف ہوتے ہیں۔ فطری طور پر بچوں کو کہانیاں، گیت اور کھیل کود سے زیادہ ہی رغبت ہوتی ہے۔ اسی لئے بچوں کے اندر مسرت و دلچسپی پیدا کرنے والے ریلے گیت، کہانیاں اور فلر انگیز کھیل دئے گئے ہیں۔ اس کتاب میں بچوں کی تخلیقی صلاحیتوں کو ابھارنے اور انہیں خوشی کے ساتھ گانے اور کہانیاں سنانے کے بھی مواقع فراہم کئے گئے ہیں۔

بچوں کے ہاتھوں میں قلم ملنے ہی فوراً ان کے دل میں تصویر بنانے کا خیال پیدا ہوتا ہے۔ بچوں کے اندر چھپی ہوئی سوچنے اور تخلیق کرنے کی فطری صلاحیت کو ابھارنے کے لئے

- ✽ آسان طریقے سے تصویر بنانے کے لئے
 - ✽ خود ہی سوچ کر تصویر بنانے کے لئے
 - ✽ اپنی پسند کے رنگ بھرنے کے لئے
 - ✽ خود ہی سوچ کر شکلیں اور زاویے بنانے کے لئے
- زیادہ مواقع فراہم کئے گئے ہیں۔

نیز ہر سبق کے آخر میں ”میں بھی کر سکتا ہوں“ کے عنوان سے بچوں کے لئے خود ہی محاسبہ کرنے کا موقع فراہم کیا گیا ہے۔

ہر ایک بچے کا تجربہ ایک دوسرے سے مختلف ہوتا ہے۔ بچوں کو آپس میں گفتگو، تبادلہ خیال اور مباحثہ کرنے کا موقع فراہم کرنا چاہئے اور بچوں کو سوال پوچھنے کے لئے ابھارنا چاہئے۔

بچوں کی خوشی کے لئے انہیں جماعتی کمروں کے علاوہ باہر لے جا کر درس دینے سے تحصیل علم میں لطف پیدا ہوگا۔ روز مرہ زندگی میں ہماری مدد کرنے والے پیشہ وروں کے بارے میں اچھے نظریات براہ راست تجربوں سے حاصل کرنے کا موقع دیا جائے۔ بچوں کی زندگی کے روزمرہ معمولات کو سائنس سے جوڑنے اور قدرتی مناظر کا مشاہدہ کرنے اور اپنی خوشیوں کو ان کے ساتھ ہم آہنگ کرنے کا احساس پیدا کرنے میں استاد ان کی رہنمائی کرے۔

مرتبین

ماحولیات

ENVIRONMENTAL STUDIES URDU MEDIUM

پہلی جماعت کے لئے STANDARD ONE

میعاد III Term III

Translators

Mrs. YASMEEN SULTANA, B.A.,D.T.Ed.,
S.G. Assistant Govt. Hobart Hr.Sec. School,
Chennai - 14.

Mrs. KHALIDA USMANI, D.T.Ed.,
S.G. Assistant Govt. Hobart Hr.Sec. School,
Chennai - 14.

Mrs. HUMAIRA YASMEEN, M.A.,
Urdu Munshi,
Govt. Muslim High School, Chennai - 108.

Mr. MOHAMED JAWEED AKRAM, M.Sc., M.Phil., M.A., B.Ed.,
B.T. Assistant,
Islamiah Boys' Hr. Sec. School,
Vaniyambadi - 635751. Vellore District.

Laser Typeset

Mohamed Nusrath Sayeed
Urdu Computer,
Vaniyambadi

Artists' Team

P. KARUPPUSAMY,
G. THIRUNAVUKKARASU,
C. MURUGAN S. MURALIDHARAN.

Layout Team

R. YUVARAJ, A. OM MURUGAN,

نمونوں کو پہچان کر اعداد کو رنگ کیجئے

1	2	3	4	5	6	7	8	9	10
11	12	13	14	15	16	17	18	19	20
21	22	23	24	25	26	27	28	29	30
31	32	33	34	35	36	37	38	39	40
41	42	43	44	45	46	47	48	49	50
51	52	53	54	55	56	57	58	59	60
61	62	63	64	65	66	67	68	69	70
71	72	73	74	75	76	77	78	79	80
81	82	83	84	85	86	87	88	89	90
91	92	93	94	95	96	97	98	99	100

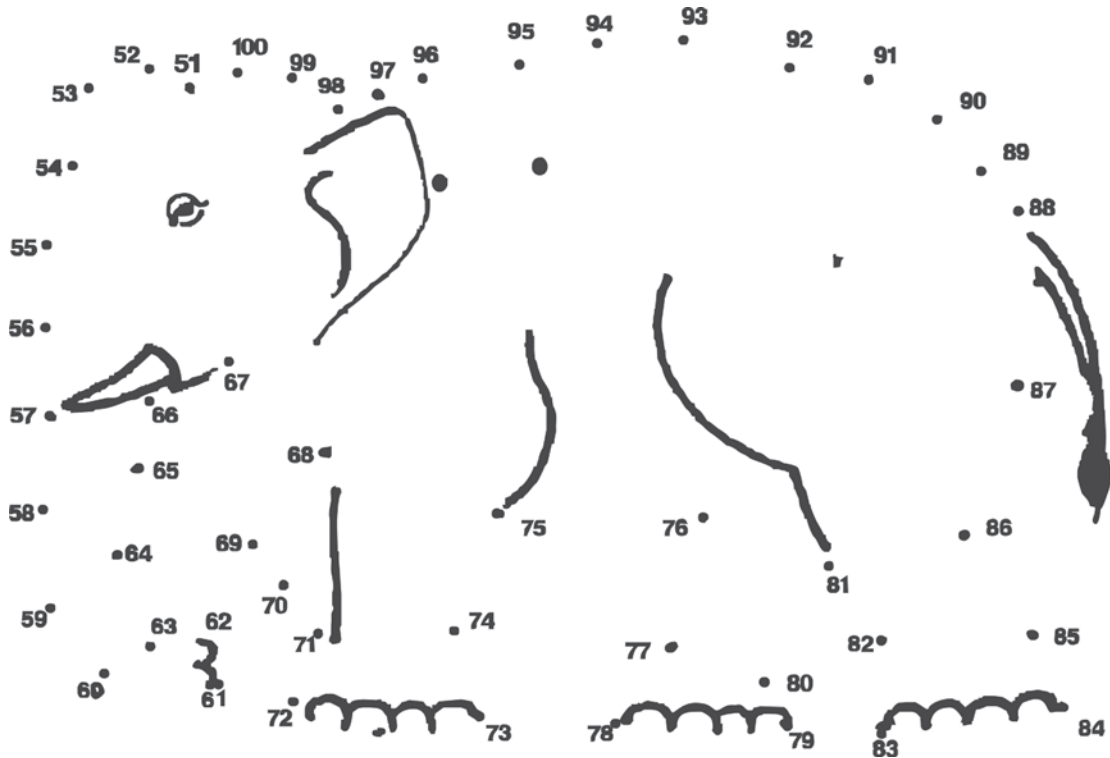
حساب

میں کر سکتا ہوں

جدول کو پڑھیے۔


51	52	53		55		57			
	62				66				
		73							80
	82						88		
91				95					100

نقطوں کو ترتیب وار ملا کر رنگ بھریے اور لطف اٹھائیے۔



خانوں کو پُر کیجئے۔

51					56				60
----	--	--	--	--	----	--	--	--	----



61			64						70
----	--	--	----	--	--	--	--	--	----



71					77				80
----	--	--	--	--	----	--	--	--	----



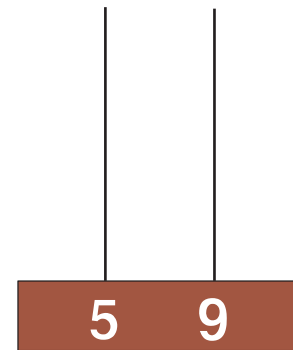
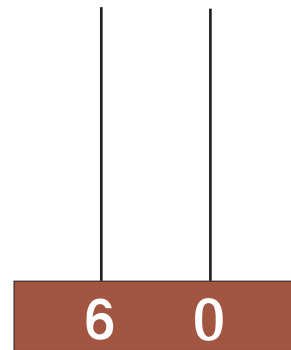
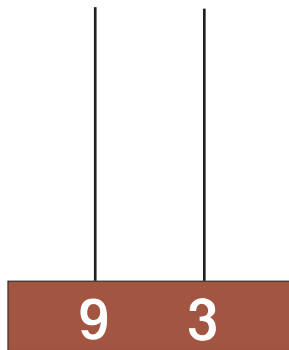
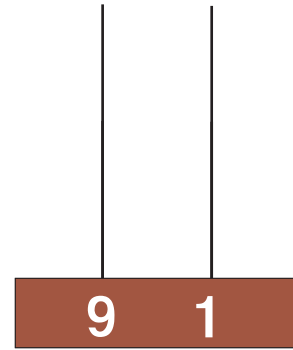
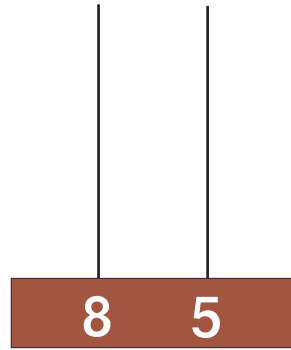
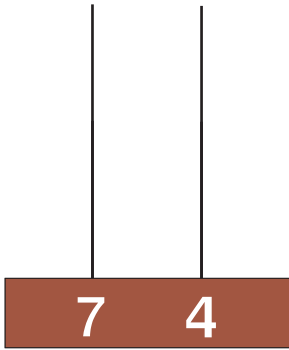
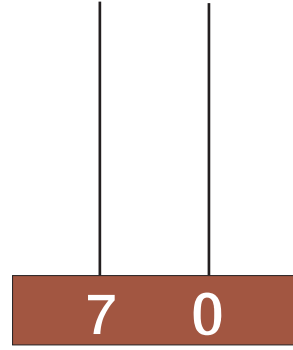
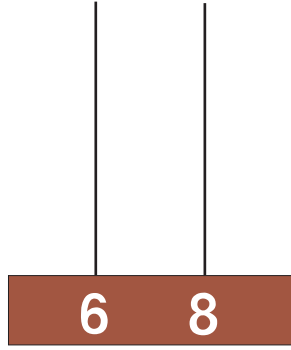
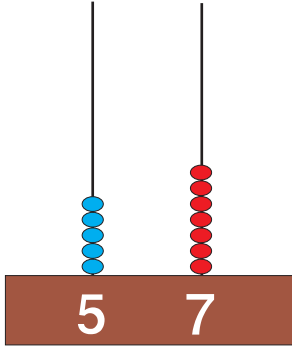
81				85					90
----	--	--	--	----	--	--	--	--	----



91		93							100
----	--	----	--	--	--	--	--	--	-----

حساب

اعداد کے مطابق موتیوں کو ڈالئے



۵

موتیوں کو گین کر اعداد لکھئے۔

دہائی	اکائی
7	8

دہائی	اکائی

دہائی	اکائی

دہائی	اکائی

دہائی	اکائی

دہائی	اکائی

دہائی	اکائی

دہائی	اکائی

حساب

10 tens and 4 ones

دہائی	اکائیاں

10 tens and 2 ones

دہائی	اکائیاں

10 tens and 3 ones

دہائی	اکائیاں

10 tens and 6 ones

دہائی	اکائیاں

10 tens and 3 ones

دہائی	اکائیاں

10 tens and 8 ones

دہائی	اکائیاں

10 tens and 5 ones

دہائی	اکائیاں

10 tens and 3 ones

دہائی	اکائیاں

51 سے 100 تک کے اعداد

4

موتیوں کو گین کر اعداد لکھئے۔

دہائی	اکائیاں
5	4

دہائی	اکائیاں

دہائی	اکائیاں

دہائی	اکائیاں


دہائی	اکائیاں

دہائی	اکائیاں

بچوں کو تدریس کے امدادی آلات کے استعمال سے 51 سے 100 تک کے اعداد کو اچھی طرح کہنے اور لکھنے کے بعد اس کی مشق کرائی جائے۔



خرگوش کو راستہ دکھائیے۔



خرگوش سے اُچھلے ہوئے اعداد کو لکھئے۔

2 , 4 , - , - , - , - , - , - , - , - , 20

میں کر سکتا ہوں۔
نمونوں کو پہچان کر جوڑ لگائیے۔

+

-

+

○

△

○

×

*

×

2

3

2

10

20

10

*

3

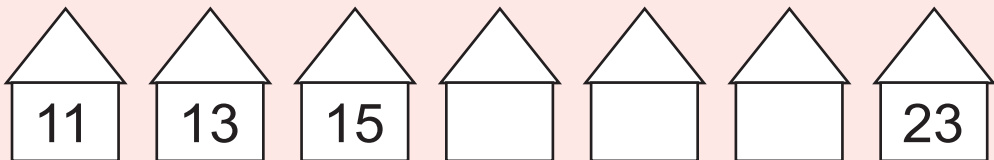

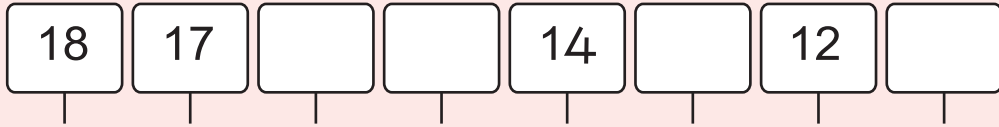



20

△

-

حساب

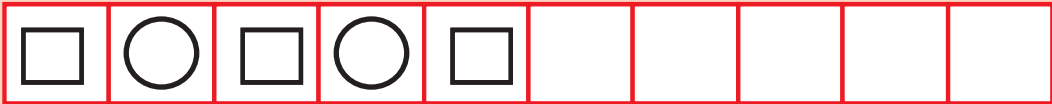
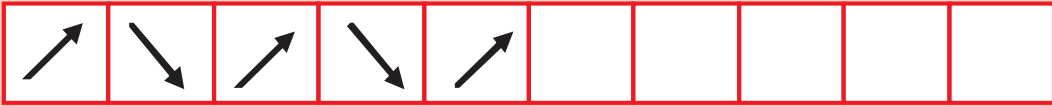
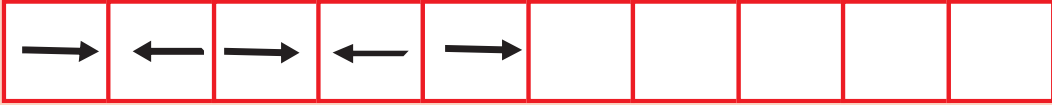
اعداد کے نمونوں کو پہچان کر
چھوٹے ہوئے اعداد کی خانہ بھری کیجئے۔



نمونوں کو مکمل کیجئے





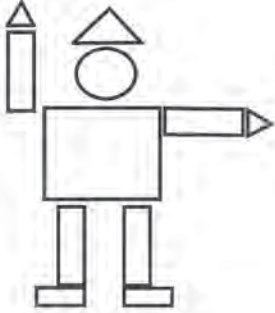
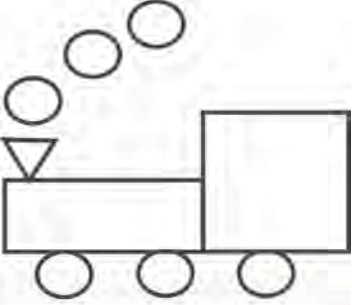



نمونوں کو مکمل کیجئے








میں کر سکتا ہوں۔

شکلوں کو گن کر لکھئے۔

حساب







جدول کو پڑھیجئے۔

جماعت					
1					
2					
3					
4					
5					

استاد جماعت کے کمرے میں موجود اشیاء کی گنتی کو لکھنے میں مدد کریں۔ پھر بچوں کو دوسری جماعتوں کو بھیج کر وہاں موجود اشیاء کی گنتی کرنے کے لئے کہیں۔ اور جدول میں بھرتی کریں



تمہارے گھر کے اشیاء کی گنتی لکھئے

شے	گنتی
	
	
	
	
	
	

حساب

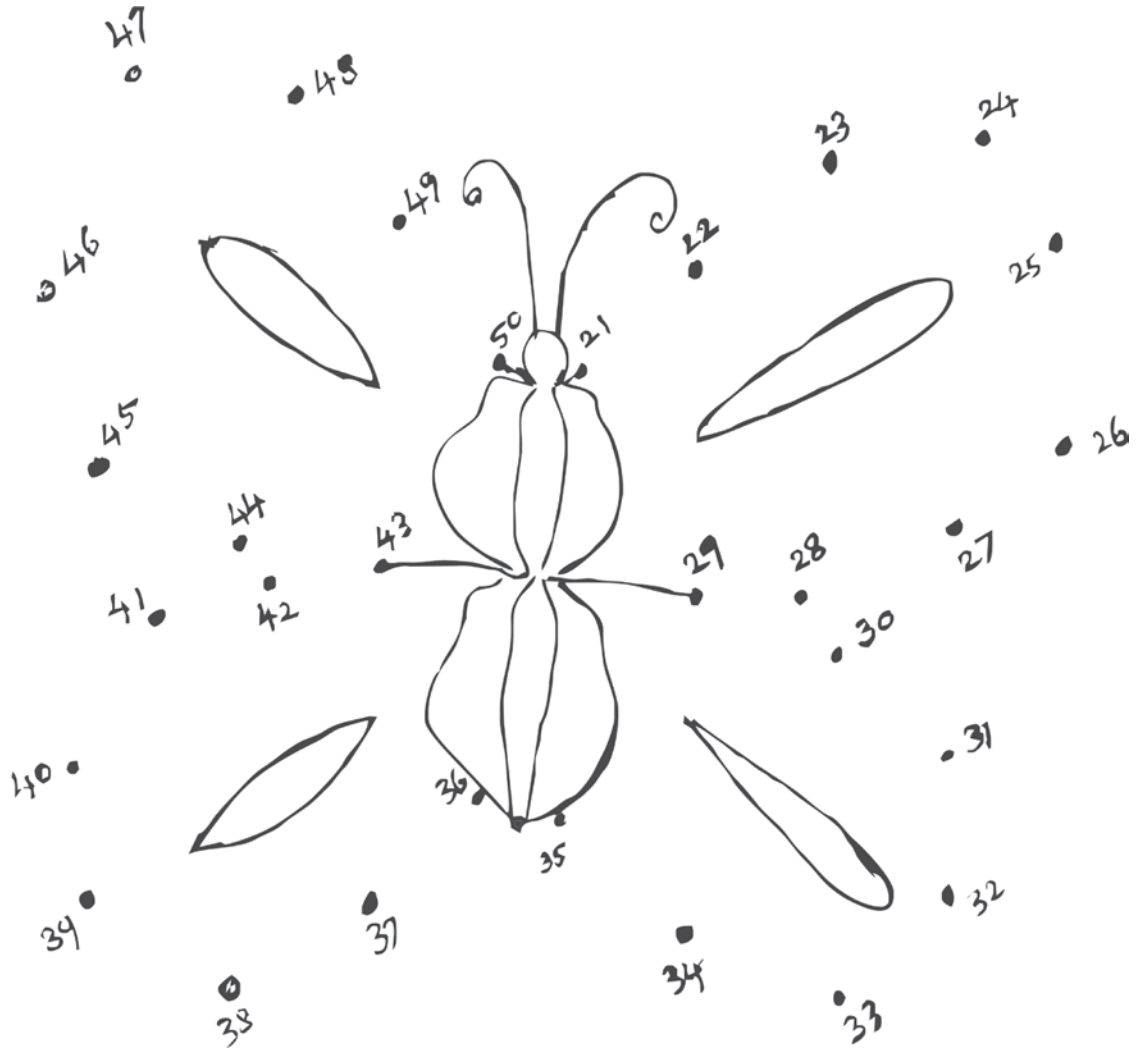


جدول کو پڑھیے۔

بچوں سے تصویر میں دئے ہوئے مناظر کے متعلق بحث کر کے ان کی گنتی کو جدول میں بھرتی کرائیے۔
بچوں کو اخبار میں آنے والی تصاویر کو غور سے دیکھنے کے لئے کہیں اور مل جل کر بحث کریں۔

نقطوں کو ترتیب وار ملا کر رنگ بھریے۔



میں کر سکتا ہوں


چھوٹے ہوئے اعداد لکھئے۔

21	22		24	25		27		29	30
----	----	--	----	----	--	----	--	----	----

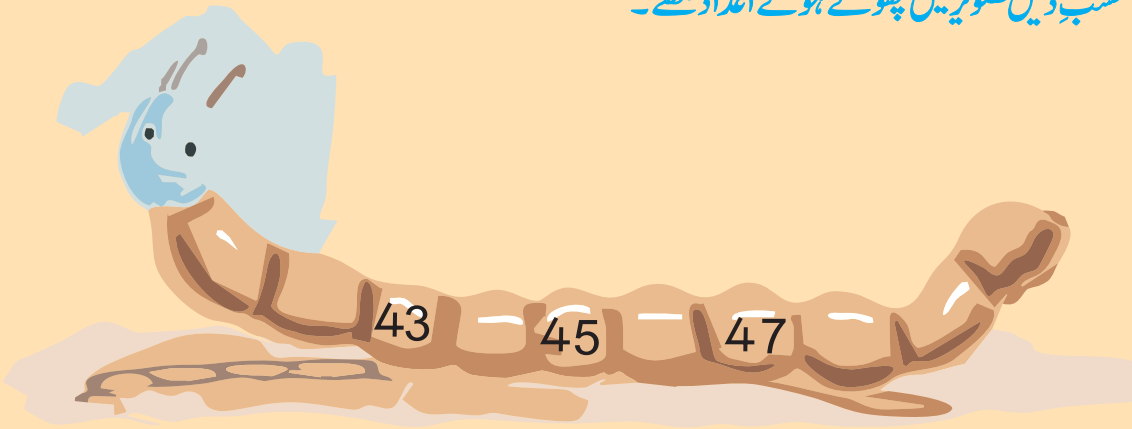
31		33	34				38		
----	--	----	----	--	--	--	----	--	--

41	42			45					50
----	----	--	--	----	--	--	--	--	----

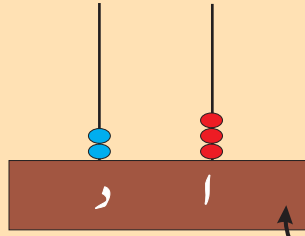
ریل گاڑی کے ڈبوں پر چھوٹے ہوئے اعداد لکھئے۔



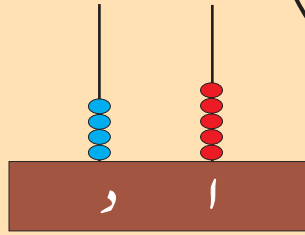
حسب ذیل تصویر میں چھوٹے ہوئے اعداد لکھئے۔



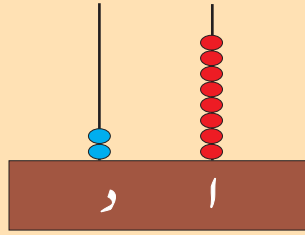
موتیوں کو گن کر جوڑ لگائیے۔



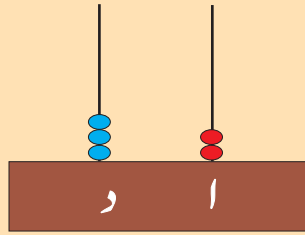
45



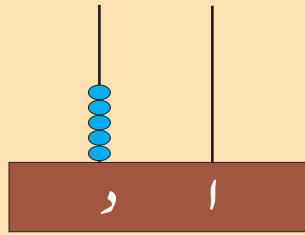
28



50



23

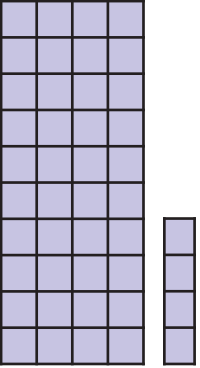
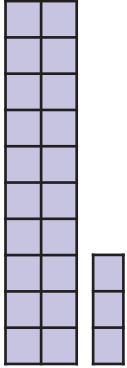


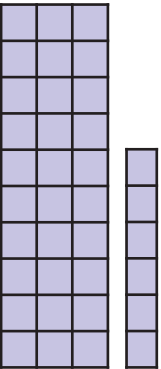
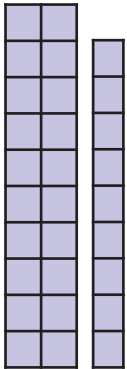
32

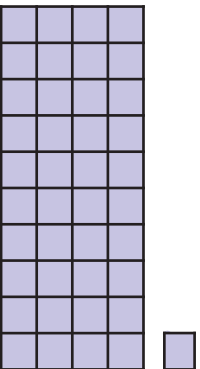
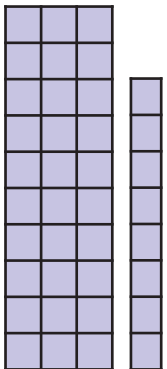
تدریس کے امدادی آلات کے استعمال سے مشق کرائیے۔

حساب

اعداد کو گین کر لکھئے۔

	<table border="1"> <tr> <th>دہائی</th> <th>اکائی</th> </tr> <tr> <td>4</td> <td>4</td> </tr> </table>	دہائی	اکائی	4	4
دہائی	اکائی				
4	4				
	<table border="1"> <tr> <th>دہائی</th> <th>اکائی</th> </tr> <tr> <td></td> <td></td> </tr> </table>	دہائی	اکائی		
دہائی	اکائی				

	<table border="1"> <tr> <th>دہائی</th> <th>اکائی</th> </tr> <tr> <td></td> <td></td> </tr> </table>	دہائی	اکائی		
دہائی	اکائی				
	<table border="1"> <tr> <th>دہائی</th> <th>اکائی</th> </tr> <tr> <td></td> <td></td> </tr> </table>	دہائی	اکائی		
دہائی	اکائی				

	<table border="1"> <tr> <th>دہائی</th> <th>اکائی</th> </tr> <tr> <td></td> <td></td> </tr> </table>	دہائی	اکائی		
دہائی	اکائی				
	<table border="1"> <tr> <th>دہائی</th> <th>اکائی</th> </tr> <tr> <td></td> <td></td> </tr> </table>	دہائی	اکائی		
دہائی	اکائی				

موتیوں کو گن کر اعداد لکھئے۔

دہائی	اکائی
3	4

دہائی	اکائی

دہائی	اکائی

دہائی	اکائی

دہائی	اکائی

دہائی	اکائی

دہائی	اکائی

دہائی	اکائی

خانوں کو پُر کیجئے۔

	<table border="1"> <tr> <th>دہائی</th> <th>اکائی</th> </tr> <tr> <td>2</td> <td>1</td> </tr> </table>	دہائی	اکائی	2	1		<table border="1"> <tr> <th>دہائی</th> <th>اکائی</th> </tr> <tr> <td></td> <td></td> </tr> </table>	دہائی	اکائی		
دہائی	اکائی										
2	1										
دہائی	اکائی										





	<table border="1"> <tr> <th>دہائی</th> <th>اکائی</th> </tr> <tr> <td></td> <td></td> </tr> </table>	دہائی	اکائی				<table border="1"> <tr> <th>دہائی</th> <th>اکائی</th> </tr> <tr> <td></td> <td></td> </tr> </table>	دہائی	اکائی		
دہائی	اکائی										
دہائی	اکائی										

	<table border="1"> <tr> <th>دہائی</th> <th>اکائی</th> </tr> <tr> <td></td> <td></td> </tr> </table>	دہائی	اکائی				<table border="1"> <tr> <th>دہائی</th> <th>اکائی</th> </tr> <tr> <td></td> <td></td> </tr> </table>	دہائی	اکائی		
دہائی	اکائی										
دہائی	اکائی										



	<table border="1"> <tr> <th>دہائی</th> <th>اکائی</th> </tr> <tr> <td></td> <td></td> </tr> </table>	دہائی	اکائی				<table border="1"> <tr> <th>دہائی</th> <th>اکائی</th> </tr> <tr> <td></td> <td></td> </tr> </table>	دہائی	اکائی		
دہائی	اکائی										
دہائی	اکائی										



	<table border="1"> <tr> <th>دہائی</th> <th>اکائی</th> </tr> <tr> <td></td> <td></td> </tr> </table>	دہائی	اکائی				<table border="1"> <tr> <th>دہائی</th> <th>اکائی</th> </tr> <tr> <td></td> <td></td> </tr> </table>	دہائی	اکائی		
دہائی	اکائی										
دہائی	اکائی										

دہائی اور اکائی میں لکھئے۔

 	<table border="1" style="width: 100%; border-collapse: collapse;"> <tr> <td style="width: 50%; text-align: center;">دہائی</td> <td style="width: 50%; text-align: center;">اکائی</td> </tr> <tr> <td style="text-align: center;">1</td> <td style="text-align: center;">7</td> </tr> </table>	دہائی	اکائی	1	7	 	<table border="1" style="width: 100%; border-collapse: collapse;"> <tr> <td style="width: 50%; text-align: center;">دہائی</td> <td style="width: 50%; text-align: center;">اکائی</td> </tr> <tr> <td style="text-align: center;">1</td> <td style="text-align: center;">8</td> </tr> </table>	دہائی	اکائی	1	8
دہائی	اکائی										
1	7										
دہائی	اکائی										
1	8										
17		18									

موتیوں کو گن کر لکھئے۔

 	
دہائی	اکائی


 	
دہائی	اکائی

اعداد کے مطابق موتیوں کی شکل بنائیے۔

دہائی	اکائی
1	5

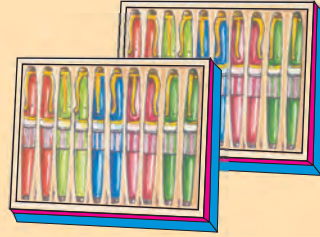
دہائی	اکائی
1	2

21 سے 50 تک کے اعداد

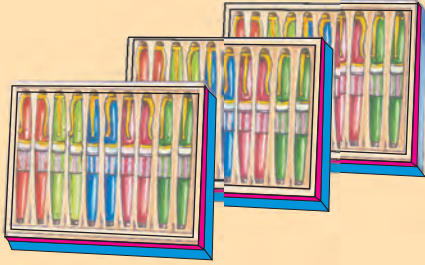


بہی خرید ا قلم کا ڈبہ ایک
بہی اسکو اور دیا ڈبہ ایک
اب بہی کے ہوئے قلم ہیں
عد میں ہیں عد میں ہیں


بہی خرید ا قلم کا ڈبہ ایک
بہی خرید ا قلم کا ڈبہ ایک
خوبصورت قلم خوبصورت قلم
عد میں دس عد میں دس



بہی خرید ا قلم کا ڈبہ ایک
بہی دیا اسکو ہیں قلم کا ڈبہ ایک
اب بہی کے ہوئے قلم تیس
عد میں تیس عد میں تیس



فلورا خرید ا قلم کا ڈبہ ایک
بہی دیا اسکو قلم تیس
اب فلورا کے ہوئے قلم چالیس
عد میں چالیس عد میں چالیس



فاضل خرید ا قلم کا ڈبہ ایک
فلورادی اسکو چالیس قلم
اب فاضل ہوئے کے ہوئے پچاس قلم
عد میں پچاس عد میں پچاس



بچوں کو تدریس کے امدادی آلات کے استعمال سے 21 سے 50 تک کے اعداد کا تعارف کرائیے۔

میں کر سکتا ہوں

شے کی قیمت کے مطابق روپیوں کی ✓ نشاندہی کیجئے۔



12 روپے



15 روپے



30 روپے



10 روپے

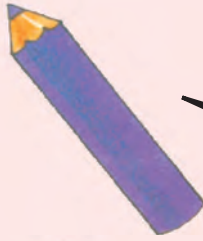


حساب

جوڑ لگائیے۔



20 روپے



2 روپے



5 روپے



10 روپے



1 روپیہ



روپیہ پیسہ



بچوں کو سکے اور روپے دکھا کر ان کی قیمت اور ان کے استعمالات کو سمجھائیں۔
 خرید و فروخت کے کھیل کے ذریعے اس کا مطلب سمجھائیے۔ مثال: خریداری

حساب

درج ذیل منظر کو 1,2,3 کی ترتیب میں لکھئے۔







صبح کی سرگرمیوں پر ✓ کا نشان لگائیے۔







شام کی سرگرمیوں پر ✓ کا نشان لگائیے۔







کھیل کر لطف اٹھائیے۔

بچوں کو دائرے کی شکل میں بٹھا کر صرف ایک بچے کو دائرے کے اطراف دوڑنے کے لئے کہا جائے۔ وہ بچہ بھاگتے ہوئے کسی کی پیٹھ پر تھپکے۔ وہ اٹھ کر مقابل سمت میں دوڑ کر دونوں کے ملنے کے مقام پر سلام کہہ کر خالی جگہ پر تیزی سے جا بیٹھے۔ جسے جگہ نہیں ملتی، وہ گھومتا ہوا کسی کی پیٹھ پر تھپکے اور اسی طرح کھیل کو جاری رکھے۔




وقت



بچوں کو تصویروں پر غور کر کے بحث کیجئے کہ یہ تمام کام دن کے کون سے وقت اور جگہ پر انجام پاتے ہیں

قدم سے ناپے

میری تھیر
آٹھ قدم لمبی ہے



بچوں کو مدرسے کے ماحول میں پائے جانے والی اشیاء کی لمبائی اور دو اشیاء کے درمیان کی لمبائی کو قدم کے ذریعہ ناپنے کی پہچان کرائیے۔

انھیں ناپئے

میری کتاب کی لمبائی
ایک باشت ہے



خانہ میں اپنے ہاتھ سے باشت کو چھڑائیے



بچوں کو جماعتی کمرے کے اندر موجود اشیاء کو باشت کے حساب سے ناپنے کے لئے کہیں

موٹا - ڈبلا


ڈبلے پر × نشان لگائیے۔ موٹے پر ✓ نشان لگائیے۔



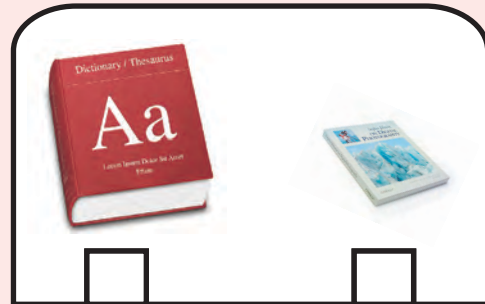


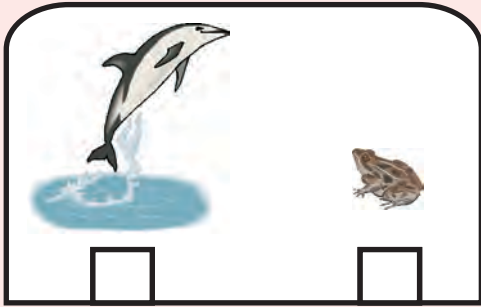


بچوں کے پاس چند موٹی اور تپلی اشیاء دے کر الگ کرنے کے لئے کہیں۔

مثال 5 روپے کا سکہ، 50 پیسے کا سکہ

بھاری - ہلکا



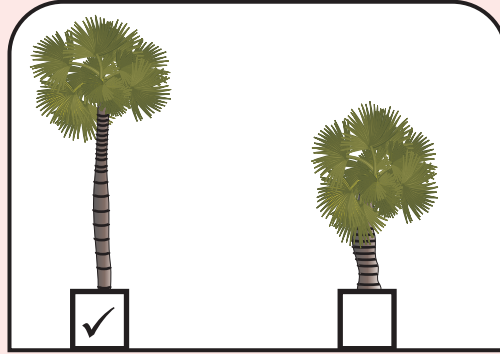


بھاری پر × نشان لگائیے۔ ہلکے پر ✓ نشان لگائیے۔





اونچا - پست

اونچے پر ✓ کا نشان لگائیے۔




پست پر ✓ کا نشان لگائیے۔



بچوں کو روزانہ مشاہدہ میں آنے والی چیزوں میں سے اونچا-پست اشیاء کو پہچان کر بولنے کی مشق کرائیں

لمبا - چھوٹا



دو اشیاء کو رکھ کر لمبا - چھوٹا کی شناخت کرائیے۔
پھر بچوں کو لمبی شکل کے لئے ✓ اور چھوٹی شکل کے لئے x کی نشان دہی میں مدد کیجئے

وہ کیسے ناپ تول رہے ہیں؟



بچوں کو تصویریں غور سے دیکھنے دیں بحث کریں کہ اشیا کو کس طرح ناپ تول کر خریدی جاتی ہے۔ بچوں کے ساتھ مل کر بحث کیجئے۔

حساب

MATHEMATICS

Urdu Medium

پہلی جماعت کے لئے

STANDARD ONE

میعاد III

Term III

Translator

Mrs. A. JOVAIRIA BANU,

School Asst., Govt. Madarasa-e-Azam Higher Secondary School,
Chennai.

Artists' Team

K. Ramamurthy, K. Thirunavukkarasu

Layout Team

R.Raja



ماحولیات

(39 - 64)

ENVIRONMENTAL STUDIES

صفحہ نمبر	اسباق	نمبر
41	ہوا چل رہی ہے! برسات ہو رہی ہے! آؤ ناؤ چلائیں	-1
48	کہاں جائیں؟ کیسے جائیں؟	-2
54	دن اور رات	-3






CONTENTS



حساب MATHEMATICS

(1 - 38)

صفحہ نمبر	اسباق	نمبر
3	پیمائشیں	-1
15	21 سے 50 تک کے اعداد	-2
23	معطیات کا برتاؤ	-3
32	51 سے 100 تک کے اعداد	-4



© **Government of Tamilnadu**

First Edition - 2012

(Published under Uniform System of School Education Scheme in Trimester Pattern)

Textbook Preparation and Compilation
State Council of Educational Research and Training

College Road, Chennai - 600 006.

Wrapper and Book design

R. Anandhan

Textbook Printing

Tamilnadu Textbook Corporation

College Road, Chennai - 600 006

This book has been printed on 80 G.S.M. Maplitho Paper

Price: Rs.

Printed by Offset at:

Textbook available at
www.textbooksonline.tn.nic.in



Government of Tamilnadu

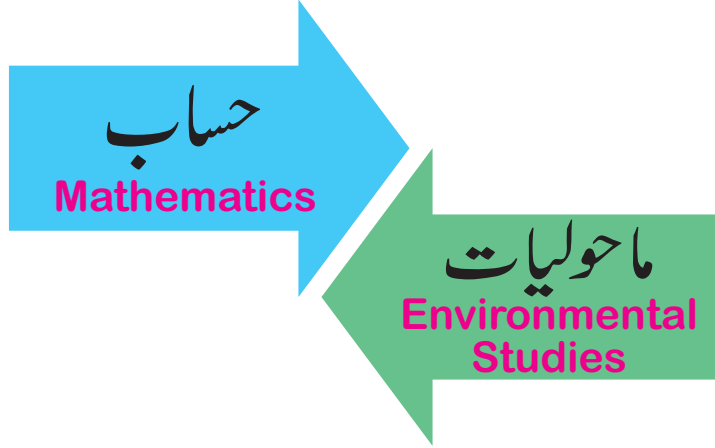
پہلی جماعت کے لئے

STANDARD ONE

URDU MEDIUM

III میعاد Term III

جلد 2 Volume 2



Untouchability is Inhuman and a Crime

Department of School Education